

1 Maxi hat Neunerreihen gelegt. Schreibe die Malaufgabe auf und rechne.

1 · 9 = \_\_\_\_\_

\_\_\_\_\_

\_\_\_\_\_

\_\_\_\_\_

3 Immer zwei Kärtchen gehören zusammen. Färbe mit der gleichen Farbe.

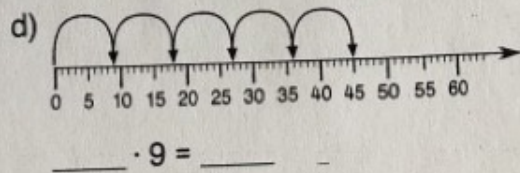
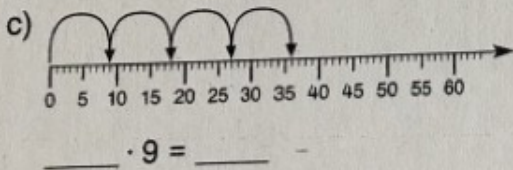
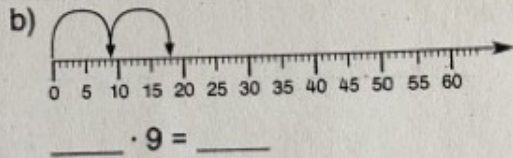
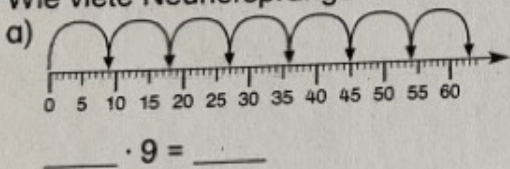
5 · 9    81    45    18    9 · 9    63

27    6 · 9    7 · 9    54    2 · 9    3 · 9

3 Welche Zahlen gehören nicht in die Neunerreihe? Streiche durch.

- a) 9 18 26 27 36 45 48 54 56 63 69 72 81 90
- b) 90 82 81 74 72 63 54 45 38 36 27 18 12 9 0

4 Wie viele Neunersprünge macht Einstein? Wo kommt er an?



5 Setze die fehlenden Zahlen ein.

- \_\_\_ · 9 = 9    \_\_\_ · 9 = 72    \_\_\_ · 9 = 81    \_\_\_ · 9 = 54    \_\_\_ · 9 = 27
- \_\_\_ · 9 = 90    \_\_\_ · 9 = 45    \_\_\_ · 9 = 0    \_\_\_ · 9 = 36    \_\_\_ · 9 = 63

